

# 第 19 回 鎌倉観光文化検定試験

## < 1 級 >

### 試験問題

#### 注 意 事 項

- 1 試験官の「始め」の合図があるまで、試験問題の内容は絶対に見てはいけません。
- 2 この試験の解答時間は、「始め」の合図があってから正味 90 分間です。
- 3 試験開始後 30 分及び試験終了 10 分前からは退場できません。
- 4 「やめ」の合図があったら直ちにやめてください。
- 5 試験問題用紙を提出する必要はありません。
- 6 マークシートへの記入には、必ず HB の黒鉛筆又はシャープペンシルを用いてください。なお、指定された箇所以外に記入された場合には採点いたしません。
- 7 記述問題(③以降)の解答については、誤字脱字は不正解とします。解答は公式テキストに掲載されている文字(形)で書いてください。
- 8 「漢字で」など解答方法を指示しているものについては、指示に沿っていない場合は不正解とします。
- 9 特に解答方法が指示されていない場合は、漢字、ひらがな、カタカナ、アルファベットいずれで書いてもよいです。
- 10 記述問題⑤については、すべてできて正解とします。また、記述問題⑥については、〔 ① 〕、〔 ② 〕両方できて正解とします。
- 11 解答用紙はいかなる場合でも必ず提出してください。(持ち帰ることはできません。)
- 12 試験問題の内容についての質問に答えることはできません。
- 13 この試験問題のページ数は、表紙を除いて 12 ページです。

1 次の各問いについて、最も適当なものを 1～4 から選びなさい。(各 1 点)

(1) 右の写真の行事で町内を練り歩く面掛十人衆に**含まれない**のはどれか。

- 1 烏天狗
- 2 福祿寿
- 3 鼻長
- 4 寿老人



(2) 右の写真の行事で供養される人物の墓とされるものはどれか。

- 1 明王院裏山にある層塔
- 2 東光寺跡にある層塔
- 3 極楽寺坂の石塔群にある七層塔
- 4 深沢小学校裏手のやぐらにある五輪塔



(3) 境内に右の写真の建築物がある寺院に寺宝として残るものはどれか。

- 1 徳川光圀寄進の千手観音像
- 2 平宗盛が最後まで持っていたものと伝わる赤旗
- 3 徳川慶喜による写経「撰法華経」
- 4 「頼朝戦評定所」の石碑



(4) 2025 年(令和 7)に新たに鎌倉市の指定有形文化財に登録された『絹本著色 三千仏図一幅』はどここの寺が所有しているものか。

- 1 建長寺                      2 円覚寺                      3 光明寺                      4 浄光明寺

(5) 50 作品目となる今年の鎌倉納涼うちわの絵柄を描き下ろした日本画家はだれか。

- 1 川又聡                      2 神戸勝史                      3 野口満一月                      4 中島千波

(6) 2024 年(令和 6)から集合住宅の建設現場で行われた発掘作業で、貴重な鎌倉時代中期の主要路と見られる石敷きの遺構と木組みの側溝が発見されたが、この建設現場は何に面しているか。

- 1 鎌倉彫会館                      2 鎌倉市川喜多映画記念館
- 3 鎌倉日蓮堂                      4 鶴岡八幡宮鶴岡文庫

(7) 源頼朝の妻北条政子が居住し、政子の死去に伴い、遺骸が荼毘にふされたとされるのはどこか。

- 1 勝長寿院                      2 永福寺                      3 鶴岡八幡宮寺                      4 壽福寺

- (8) 1226～1227年(建保4～5)ごろに、3代将軍源実朝に命じられ、宋へ渡るための巨大な船を由比ヶ浜で建造したとされる人物はだれか。
- 1 運慶                      2 陳和卿                      3 往阿弥陀仏                      4 成朝
- (9) 鎌倉時代末期に新田義貞らにより鎌倉が攻められた際に、一番激しい戦場となったのはどこか。
- 1 十二所                      2 極楽寺                      3 稲村ヶ崎                      4 由比ヶ浜
- (10) 15世紀後期の鎌倉の様子を示した絵図は何か。
- 1 『浄光明寺敷地絵図』                      2 『極楽寺境内絵図』  
3 『相州鎌倉之本絵図』                      4 『善宝寺寺地絵図』
- (11) 江戸時代に、多くの人たちが鎌倉・江の島方面に訪れるようになるきっかけとなった『東海道名所記』の作者は誰か。
- 1 徳川光圀                      2 林羅山                      3 浅井了意                      4 曲亭馬琴
- (12) 江戸時代初期に鎌倉郡内を知行した大河内(松平)正綱が居を構えた地はどこか。
- 1 植木                      2 手広                      3 扇ヶ谷                      4 玉縄
- (13) 近世鎌倉の村の基本となった鎌倉十ヶ村のうち、谷合四ヶ村に**含まれない**のはどれか。
- 1 雪ノ下村                      2 十二所村                      3 西御門村                      4 二階堂村
- (14) 1861年(文久元)に鎌倉を訪れ、日記に農村のような鎌倉の風景と大仏に驚きながら、将来的には外国人観光客にとって魅力的な町となることを予見した人物はだれか。
- 1 ロベルト・コッホ                      2 エルウィン・ベルツ  
3 ロバート・フォーチュン                      4 アーネスト・サトウ
- (15) 伯父が瑞泉寺の和尚を務めていたことから逗留したことがあり、境内にはそれを示す碑が残る人物はだれか。
- 1 吉田松陰                      2 桂小五郎                      3 勝海舟                      4 大久保利通
- (16) 鎌倉公方が住職を任命した関東十刹のうち、今も残る鎌倉の寺の組み合わせとして正しいものはどれか。
- 1 報国寺・明月院                      2 明月院・大慶寺  
3 瑞泉寺・大慶寺                      4 海蔵寺・報国寺
- (17) 毎年7月25日に行われる荏柄天神社例大祭で使われる神輿はいつ造られたものか。
- 1 鎌倉時代                      2 室町時代                      3 江戸時代                      4 明治時代
- (18) 近年、鎌倉十三仏詣が注目されているが、中国で唐の時代に流行した「十王思想」を日本独自に発展させ、三王(三仏)を加えたものが十三仏詣として定着したのはいつといわれているか。
- 1 平安時代                      2 南北朝時代                      3 安土桃山時代                      4 江戸時代

(19) 鎌倉時代末期から南北朝時代が描かれる漫画『逃げ上手の若君』の『若君』が起こした反乱は何か。

- 1 永享の乱                      2 享徳の乱                      3 霜月騒動                      4 中先代の乱

(20) 材木座の蓮乗院の本尊阿弥陀如来像はだれの守護仏と伝わっているか。

- 1 三浦大介義明              2 岡崎義実                      3 千葉常胤                      4 工藤祐経

(21) 次の龍口寺輪番八カ寺のうち、最も早い時期に建立された寺院はどれか。

- 1 本龍寺                      2 勸行寺                      3 妙典寺                      4 法源寺

(22) 次の国宝のうち、鎌倉時代につくられたものはいくつあるか。

円覚寺舍利殿、清拙正澄墨蹟 遺偈 一幅(財常盤山文庫)，  
朱漆弓 一張(鶴岡八幡宮)，紙本著色 当麻曼荼羅縁起 二卷(光明寺)，  
大覚禪師墨蹟 法語規則 二幅(建長寺)，絹本淡彩 蘭溪道隆像 一幅(建長寺)，  
紙本墨画 凍雲篩雪図 浦上玉堂筆 一幅(川端康成記念会)，  
梵鐘 建長寺鐘 一口(建長寺)，紙本淡彩 十便図 池大雅筆(川端康成記念会)  
紙本淡彩 十宜図 与謝蕪村筆(川端康成記念会)

- 1 6つ                      2 5つ                      3 4つ                      4 3つ

(23) 次の石碑などと揮毫した人物の組み合わせのうち、正しいものはいくつあるか。

- ア 光明寺山門の「天照山」の扁額－後土御門天皇  
イ 「東身延」の額(本覚寺)－徳川吉宗  
ウ 極楽洞坑門上部の碑文(江ノ島電鉄唯一のトンネル)－曾禰荒助  
エ 御成小学校門標の校名の文字(御成町旧御用邸)－高浜虚子  
オ 円覚寺山門の「円覚興聖禅寺」の額－伏見上皇

- 1 5つ                      2 4つ                      3 3つ                      4 2つ

(24) 次の場所と舞台となった映画やドラマ、漫画の組み合わせのうち、正しいものはいくつあるか。

- ア 大町釈迦堂口遺跡－映画「ツイゴイネルワイゼン」  
イ 北鎌倉駅－映画「晩春」  
ウ 鎌倉文学館－映画「それから」  
エ 極楽寺－映画「海街 diary」  
オ 鎌倉高校前駅－漫画「ピンポン」  
カ 鎌倉高校前駅－漫画「SLAM DUNK」  
キ 極楽寺駅－テレビドラマ「続・続・最後から二番目の恋」

- 1 7つ                      2 6つ                      3 5つ                      4 4つ

(25) 次の景観重要建築物等とそれに関係する人物の組み合わせとして正しいものはいくつあるか。

- |                 |                   |      |      |
|-----------------|-------------------|------|------|
| ア 鎌倉文学館－前田利為    | イ 寸松堂－後藤俊太郎       |      |      |
| ウ かいひん荘 鎌倉－菅原通済 | エ 石川邸－里見淳         |      |      |
| オ 野尻邸－大佛次郎      | カ 鎌倉市長谷子ども会館－福島浪蔵 |      |      |
| 1 6つ            | 2 5つ              | 3 4つ | 4 3つ |

(26) 次の文中の下線部のうち、誤りを含むものはいくつあるか。

ア大町のイ八雲神社付近にあった太平寺は、1282年(弘安5)ころ、相模出身の女・ウ天秀尼がエ釈迦如来像を祀り、オ8代執権北条時宗の招きによりカ元から来朝したキ兀庵普寧を導師として仏殿供養を行ったのが始まりという。

- |      |      |      |      |
|------|------|------|------|
| 1 4つ | 2 3つ | 3 2つ | 4 1つ |
|------|------|------|------|

(27) 次の文中の下線部のうち、誤りを含むものはいくつあるか。

円覚寺の塔頭ア正統院は、イ大慶寺や浄智寺などの住職も務めたウ56世曇芳周応の塔所である。境内に夏目漱石の句碑「エ佛性は白き桔梗にこそあらめ」がある。漱石は、1894年(明治27)から翌年にかけて、友人のオ星野天知のすすめで円覚寺の老師カ釈(洪嶽)宗演のもとで参禅、この体験をもとに、1910年(明治43)に「東京朝日新聞」「大阪朝日新聞」に連載された小説『キこころ』や『夢十夜』を書いた。

- |      |      |      |      |
|------|------|------|------|
| 1 5つ | 2 4つ | 3 3つ | 4 2つ |
|------|------|------|------|

(28) 次の鎌倉十井に関する記述で正しいものはいくつあるか。

- ア 泉ノ井は、海蔵寺の門前にあり、徳川光圀の『鎌倉日記』には「泉井谷ノ辺ニ潔キ水涌出ル也」と書かれている。
- イ 扇ノ井は、浄光明寺から薬王寺に向かう道の途中にあり、「扇ガ谷」という地名はこの井戸に由来するという説もある。
- ウ 甘露ノ井は、浄智寺の総門横の小さな石橋の脇にあり、この井戸の水は蜜のように甘く、不老不死の効能があると言われていた。
- エ 鉄ノ井は、小町通り北の端、鶴岡八幡宮に通じる道の角にある。井戸を掘ったとき、鉄でできた地蔵の頭が出てきたことから鉄ノ井と呼ばれるようになった。
- オ 銚子ノ井は、材木座から小坪に抜ける海際の道沿いにあり、弓矢の名人であった源為朝が大島から放った矢がこの井戸に落ちたという伝説が残る。
- カ 瓶ノ井は、明月院境内にあり、別名、「甕ノ井」ともいわれる。
- キ 星ノ井は、極楽寺切通の登り口にある。鎌倉の歌枕「星月夜」は、この辺りの谷の名である星月夜ヶ谷からきているといわれる。
- ク 棟立ノ井は、覚園寺の薬師堂の背後の山際にあり、忍性がこの地に滞在したときに井戸を掘り、ここから閼伽水を汲んだという言い伝えがある。

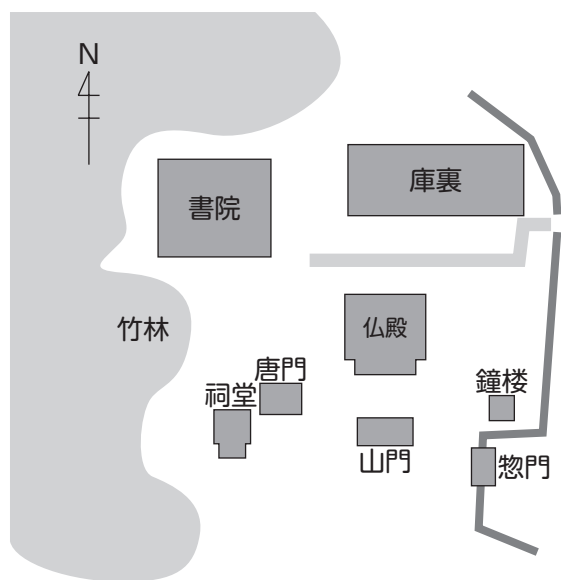
- |      |      |      |      |
|------|------|------|------|
| 1 7つ | 2 6つ | 3 5つ | 4 4つ |
|------|------|------|------|



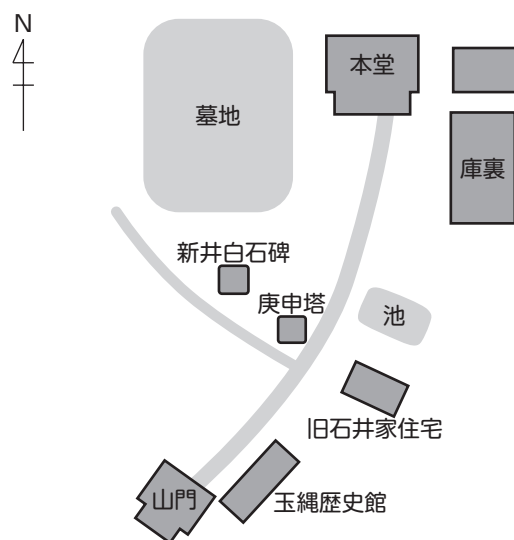
(29) 右の写真の扁額が山門に掲げられている寺院の境内図はどれか。



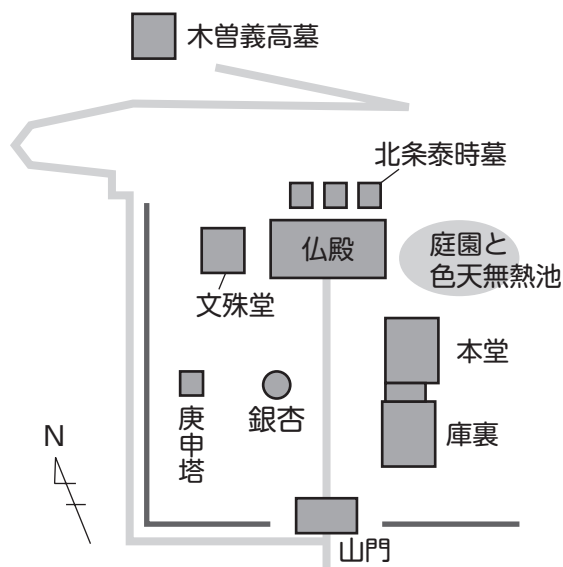
1



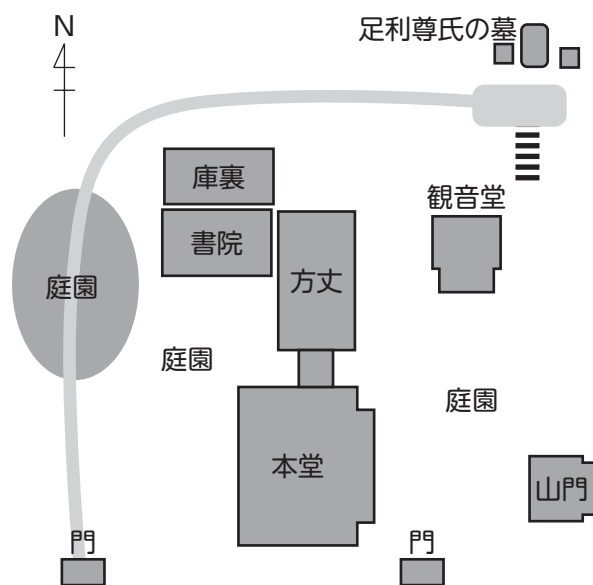
2



3



4



**2** 鎌倉七福神めぐりにおいて、次の(30)～(36)の神々を祀る寺社が含まれる地域をそれぞれ地図中の1～4から選びなさい。(各1点)

(30) 恵比寿天

(31) 大黒天

(32) 毘沙門天

(33) 弁財天

(34) 布袋尊

(35) 福祿寿

(36) 寿老人



### 記述問題解答における注意

- ◇ 誤字脱字は不正解とする。
- ◇ 解答は公式テキストに掲載されている文字(形)で書くこと。
- ◇ 「漢字で」など解答方法を指示しているものについては、指示に沿っていない場合は不正解とする。
- ◇ 特に解答方法が指示されていない場合は、漢字、ひらがな、カタカナ、アルファベットいずれで書いてもよい。
- ◇ 記述問題[5]については、すべてできて正解とする。また、記述問題[6]については、〔 ① 〕,〔 ② 〕両方できて正解とする。



**3** 次の写真は何か。指示にしたがって書きなさい。(各2点)

(37) 寺名と建物名を**漢字**で書きなさい。



(38) 寺名と彫像名を**漢字**で書きなさい。




(39) 神社名と建物名を**漢字**で書きなさい。



(40) 寺名と仏像名を**漢字**で書きなさい。



(41) 寺名と行事名を**漢字**で書きなさい。



**4** 次の用語の読みを**ひらがな**で書きなさい。(各2点)

(42) 飯盛山青蓮寺

(43) 朝夷奈切通

(44) 夷堂橋

(45) 底脱ノ井

(46) 凍雲篩雪図

5 次の各問いについて、指示にしたがって書きなさい。(各4点)

(47) 次の表は、鎌倉市内にある神社とその祭神や鎮守地についてまとめたものである。次の

① ～ ⑥ にあてはまる語句を、漢字で書きなさい。

鎮 守 地	神 社	祭 神
小町	①	大己貴命
②	八雲神社	③，稲田比女命，八王子命， 佐竹氏霊
扇ヶ谷	④	③，桓武天皇，葛原親王，高望王
由比ヶ浜	葛原岡神社	⑤
極楽寺	⑥	日本武尊，速玉男命，③， 建御名方命，熊野大神

(48) 今泉不動の正式名称について、① ～ ③ にあてはまる語句を、漢字で書きなさい。

① 山 ② 院 ③ 寺

(49) 次の御朱印の模式図の ① ～ ④ にあてはまる語を、漢字で書きなさい。

鎌倉長谷 収玄寺 如蓮華在水 奉拝令和〇年〇月〇日 ① 邸址	かまくら大町 令和〇年 〇月〇日 上行寺 ② 封じ	大聖 栗船山 常楽寺 奉拝令和〇年〇月〇日 ③ 菩薩	日朝大上人 令和〇年 〇月〇日 本覚寺 ④ 救護 小町
---	------------------------------------	-------------------------------------	--------------------------------------

- 6 次の各文の〔 ① 〕,〔 ② 〕に最も適当な語句を書きなさい。ただし,〔 ① 〕,〔 ② 〕  
両方できて正解とする。(各2点)

(50) 〔 ① 〕,〔 ② 〕ともに漢字で書きなさい。

古都保存法の制定が実現するきっかけになったのは,〔 ① 〕と呼ばれる鶴岡八幡宮の後背部の緑地開発をめぐる開発側と反対派の攻防だった。運動には,大佛次郎ら著名人をはじめ多くの市民が加わった。1964年(昭和39)に開設された〔 ② 〕は,〔 ① 〕の舞台となった緑地を買い取った。

(51) 〔 ① 〕,〔 ② 〕ともに漢字で書きなさい。

瓜ヶ谷やぐら群は,葛原岡神社の北側の谷にある5穴からなる鎌倉時代のやぐら群で,「〔 ① 〕やぐら」ともいわれる。この一帯は,国指定史跡で鎌倉七口の一つである〔 ② 〕とされた。

(52) 〔 ① 〕,〔 ② 〕ともに漢字で書きなさい。

滑川は,多くの支流を持ち場所によって呼び名が変わる。上流から太刀洗川,〔 ① 〕川,滑川,坐禅川,夷堂川,炭(墨)売川,〔 ② 〕川と名を変えて海にそそぐ。

(53) 〔 ① 〕,〔 ② 〕ともに漢字で書きなさい。

〔 ① 〕寺は,市内有数のウメの名所で,2月下旬ころ,本堂前で市天然記念物のオウバイが,楚々とした淡黄色の花をつける。その花名は「日本の植物分類学の父」と呼ばれる〔 ② 〕博士が発見して命名した。

(54) 〔 ① 〕は数字,〔 ② 〕は漢字で書きなさい。

建長寺では,創建〔 ① 〕年を記念した境内整備の一環で,仏殿前庭や西来庵参道に多数のボタンが新たに植えられ,新しい花名所になっている。また,円覚寺〔 ② 〕院は日ごろ非公開の塔頭だが,境内に多くこの花が植えられ,盛りに特別公開されている。

(55) 〔 ① 〕,〔 ② 〕ともに漢字で書きなさい。

「ツツジ寺」の別名がある〔 ① 〕院では花期になると境内一面に約五十株のオオムラサキが咲き誇る。笛田公園に近い〔 ② 〕寺でも本堂背後の斜面一面に,色とりどりのキリシマツツジやオオムラサキが咲く。

- (56) [ ① ]は漢字, [ ② ]はカタカナで書きなさい。

かつては非公開寺院だったが近年境内の花が美しいシーズンの週末だけ開門するようになった[ ① ]寺の、山際の竹林脇に鎌倉一のシャガの群生が見られる。また、鎌倉の「[ ② ]寺」として有名な妙法寺も、石段の両脇を埋めるこの花に古都ならではの風情がある。

- (57) [ ① ], [ ② ]ともに漢字で書きなさい。

極楽寺は、鎌倉時代後期には、鎌倉の海の玄関口である[ ① ]を管理し、関料の徴収などを行っていた。一方で、開山の忍性は、境内に施薬院、悲田院、施益院、福田院などを設け、不幸な人を救済する福祉事業に取り組み、人々から[ ② ]如来と崇められた。

- (58) [ ① ]は漢字, [ ② ]はカタカナで書きなさい。

1946年(昭和21)、新しい時代の教育を目指して材木座の古刹[ ① ]寺に開設された「鎌倉[ ② ]」には、高見順や吉野秀雄ら鎌倉在住の作家、文化人が教授陣に名を連ねた。

- (59) [ ① ], [ ② ]ともに漢字で書きなさい。

来迎寺(西御門)の如意輪観音菩薩像は、鎌倉地方特有の仏像装飾の一技法である[ ① ]を施した像で、もとは源頼朝の持仏堂だった[ ② ]にあったものを移したといわれる。

- (60) [ ① ], [ ② ]ともに漢字で書きなさい。

江戸時代、中世の伝統技術を継承するという鎌倉仏師の[ ① ]家・三橋家をはじめ、[ ② ]寺大工の河内家などは、鎌倉やその周辺で多くの仏像や寺社建築の修理・修復に携わった。

- (61) [ ① ], [ ② ]ともに漢字で書きなさい。

1685年(貞享2)に、徳川光圀が『[ ① ]』を編纂して鎌倉の地誌を公刊したころから、次第に鎌倉を訪れる参詣客や見物客が増加した。江戸時代後期になると、[ ② ]が鎌倉を紹介する絵図「鎌倉・江ノ嶋・大山新板往来双六」を描いた。



- (62) [ ① ]は**4 字**, [ ② ]は**漢字**で書きなさい。

日蓮がある夜、何千人という念仏門徒が、日蓮の住む[ ① ]の草庵を焼き討ちにした。この時、どこからともなく[ ② ]が現れて、夜道を裏山の洞窟へと導いてくれたおかげで、日蓮は九死に一生を得たという。

- (63) [ ① ], [ ② ]ともに**漢字**で書きなさい。

毎年2月8日に[ ① ]で行われる針供養は使い古した針にねぎらいと感謝を込め行う神事で、まず拝殿で神事が執り行われた後、拝殿前の三方の上に置かれた[ ② ]に針を刺して供養する。市内や近隣の裁縫関係者などで賑わう。

- (64) [ ① ]は**漢字**, [ ② ]は**4 字**で書きなさい。

毎年9月12日に大町の[ ① ]寺で行われる龍口法難会は[ ② ]供養ともいわれ、日蓮が龍ノ口刑場に引かれていく時、栈敷尼がゴマの[ ② ]を差し上げたことから、この日に日蓮像に[ ② ]を供えて参詣の人々にも供する。

- (65) [ ① ], [ ② ]ともに**漢字**で書きなさい。

鎌倉において歳の市は、かつては鶴岡八幡宮、[ ① ]寺、大船の[ ② ]神社、腰越方面などで開かれていたが、現在は[ ① ]寺の歳の市だけとなり、達磨、熊手などの縁起物をはじめ、神棚や暦といった正月用品などの屋台が立ち並ぶ。

(以上、問題はこれで終わりです。)