

# 第 12 回 鎌倉観光文化検定試験

## < 1 級 >

### 試験問題

#### 注 意 事 項

- 1 試験官の「始め」の合図があるまで、試験問題の内容は絶対に見てはいけません。
- 2 この試験の解答時間は、「始め」の合図があってから正味 90 分間です。
- 3 試験開始後 30 分及び試験終了 10 分前からは退場できません。
- 4 「やめ」の合図があったら直ちにやめてください。
- 5 試験問題用紙は提出する必要はありません。
- 6 マークシートへの記入には、必ず HB の黒鉛筆又はシャープペンシルを用いてください。なお、指定された箇所以外に記入された場合には採点いたしません。
- 7 記述問題(③以降)の解答については、誤字脱字は不正解とします。解答は公式テキストに掲載されている文字(形)で書いてください。
- 8 「漢字で」など解答方法を指示しているものについては、指示に沿っていない場合は不正解とします。
- 9 特に解答方法が指示されていない場合は、漢字、ひらがな、カタカナ、アルファベットいずれで書いてもよいです。
- 10 記述問題⑤以降については、〔 ① 〕,〔 ② 〕両方できて正解とします。
- 11 解答用紙はいかなる場合でも必ず提出してください。(持ち帰ることはできません。)
- 12 試験問題の内容についての質問に答えることはできません。
- 13 この試験問題のページ数は、表紙を除いて 14 ページです。

1 次の各問いについて、最も適当なものを1～4から選びなさい。

(1) 次の仏像のうち、右の写真の建物に安置されているのはどれか。

- 1 木造阿弥陀三尊坐像
- 2 木造閻魔大王坐像
- 3 木造宝冠釈迦如来坐像
- 4 木造十一面観音菩薩立像



(2) 次の行事のうち、右の写真の寺院で行われるのはどれか。

- 1 大國禱会成満祭
- 2 動物慰霊祭
- 3 清正公祭
- 4 四万六千日



(3) 右の写真の扁額の字はだれのものか。

- 1 後宇多天皇            2 後光厳天皇
- 3 後醍醐天皇           4 後土御門天皇



(4) 2018年(平成30)4月1日に神奈川県立フラワーセンター大船植物園から改称しリニューアルオープンした神奈川県立大船フラワーセンターの愛称は何か。

- 1 サカタのタネ大船フラワーセンター            2 豊島屋大船フラワーセンター
- 3 日比谷花壇大船フラワーセンター            4 花キューピット大船フラワーセンター

(5) 次の鎌倉の寺院のうち、平安時代に建立されたという伝承をもつのはどこか。

- 1 杉本寺            2 長谷寺            3 青蓮寺            4 極楽寺

(6) 時宗の開祖一遍の鎌倉入りを阻止したのは、だれの警護をしていた武士か。

- 1 北条時頼            2 北条時宗            3 北条政村            4 北条貞時

(7) 浄光明寺には4つの宗派の勧学院が建てられたが、それに含まれないものは何か。

- 1 華嚴宗            2 律宗            3 天台宗            4 真言宗

(8) かつての関東十刹に数えられた寺のうち、鎌倉市内には現存するものがいくつあるか。

- 1 4つ            2 3つ            3 2つ            4 1つ

(9) 荏柄天神社の社殿が造営されるきっかけとなった、天から降ってきたとされるものは何か。

- 1 天神絵筆            2 天神旗            3 天神画像            4 天神札

(10) 葛原岡神社はどの地域の鎮守か。

- 1 扇ヶ谷            2 由比ヶ浜            3 梶原            4 極楽寺

- (11) 開館以来、鎌倉芸術館エントランスに掲げられている世界最大の鎌倉彫の作品名は何か。  
 1 雲                      2 雪                      3 雨                      4 空
- (12) 江戸時代に鎌倉を描いた絵図「鎌倉・江ノ嶋・大山新板往来双六」を描いた絵師はだれか。  
 1 歌川国貞                      2 東洲斎写楽  
 3 歌川広重                      4 前北斎為一(葛飾北斎)
- (13) 国宝「十便図 池大雅筆」「十宜図 与謝蕪村筆」を所蔵しているのはどこか。  
 1 松ヶ岡文庫              2 川端康成記念会      3 常盤山文庫              4 鶴岡八幡宮
- (14) 次の鎌倉十三仏詣の霊場と祀られている仏の組み合わせで**正しくないもの**はどれか。  
 1 浄妙寺－釈迦如来                      2 報国寺－観世音菩薩  
 3 極楽寺－大日如来                      4 常楽寺－文殊菩薩
- (15) 円覚寺の開山国師毎歳忌(開山忌)ではじめに一山の僧が集まって法会を行う場所はどこか。  
 1 山門                      2 開山堂                      3 舍利殿                      4 禅堂
- (16) 虚空蔵堂で、虚空蔵菩薩が開帳され、護摩が焚かれ読経が行われるのは、年何回か。  
 1 1月のみの年1回                      2 1月、9月の年2回  
 3 1月、5月、9月の年3回                      4 1月、4月、7月、10月の年4回
- (17) 次の鎌倉の行事のうち、仕事始めや事始めではないものはどれか。  
 1 船祝い                      2 左義長神事                      3 除魔神事                      4 手斧始式
- (18) 鎌倉五山を創建が古い順に並べたときに正しいものはどれか。  
 1 円覚寺→建長寺→壽福寺→浄智寺→浄妙寺  
 2 建長寺→円覚寺→壽福寺→浄智寺→浄妙寺  
 3 浄妙寺→壽福寺→建長寺→浄智寺→円覚寺  
 4 浄妙寺→浄智寺→壽福寺→建長寺→円覚寺
- (19) 次の①～③の条件をすべて満たす寺院はどれか。

- |                   |             |
|-------------------|-------------|
| ①材木座にある。          | ②浄土宗の寺院である。 |
| ③北条氏の一族によって建立された。 |             |

- 1 補陀洛寺              2 極楽寺                      3 九品寺                      4 光明寺

- (20) 次の①～③の条件をすべて満たす寺院はどれか。

- |                   |             |
|-------------------|-------------|
| ①二階堂にある。          | ②天台宗の寺院である。 |
| ③毎年8月10日に縁日が行われる。 |             |

- 1 覚園寺                      2 杉本寺                      3 瑞泉寺                      4 宝戒寺

(21) 次の河川の名称のうち、滑川の別名はいくつあるか。

砂押川，境川，太刀洗川，柏尾川，胡桃川，山ノ内川，坐禅川，極楽寺川，夷堂川，逆川，炭(墨)売川，二階堂川，閻魔川，神戸川，佐助川

1 6つ                      2 5つ                      3 4つ                      4 3つ

(22) 次の花・樹木と名所となっている寺の組み合わせのうち、正しいものはいくつあるか。

スイセン…瑞泉寺，ウメ…荏柄天神社，ハギ…安国論寺，ツツジ…安養院  
アジサイ…明月院，ヤマブキ…英勝寺，カイドウ…光則寺，ハナモモ…妙法寺

1 8つ                      2 6つ                      3 4つ                      4 2つ

(23) 次の祭りと行事のうち、鶴岡八幡宮で行われるものはいくつあるか。

初えびす，菖蒲祭，ぼんぼり祭，天王祭，大注連祭，初巳祭，実朝祭，文殊祭，人形供養，夏越祭，祈年祭，針供養，鎌倉薪能，神楽始式，動物慰霊祭，万灯祈願会(万灯供養)

1 8つ                      2 6つ                      3 4つ                      4 2つ

(24) 次の鎌倉の庭園のうち、国指定の名勝になっているものはいくつあるか。

建長寺庭園，円覚寺庭園，長谷寺庭園，瑞泉寺庭園，浄妙寺庭園，明月院本堂後庭園，光明寺三尊五祖の石庭，鶴岡八幡宮神苑ぼたん庭園，旧華頂宮邸洋風庭園，一条恵観山荘庭園

1 9つ                      2 7つ                      3 5つ                      4 3つ

(25) 次の建立された寺院と屋敷跡の組み合わせのうち、正しいものはいくつあるか。

ア 収玄寺…四条金吾                      イ 妙隆寺…三浦義明                      ウ 宝戒寺…安達盛長  
エ 光則寺…宿谷光則                      オ 長勝寺…新田義貞                      カ 圓久寺…北条重時  
キ 實相寺…工藤祐経                      ク 壽福寺…源義朝                      ケ 英勝寺…太田道灌

1 9つ                      2 7つ                      3 5つ                      4 3つ

(26) 次の寺院と開山の組み合わせのうち、正しいものはいくつあるか。

ア 長壽寺…古先印元禅師                      イ 浄光明寺…覚阿公忍                      ウ 本覚寺…日出  
エ 圓應寺…智覚禅師                      オ 東慶寺…青岳尼                      カ 覚園寺…天岸慧広  
キ 薬王寺…日澄                      ク 海蔵寺…大休正念                      ケ 妙隆寺…日英  
コ 光触寺…作阿                      サ 妙本寺…日蓮                      シ 安養院…尊観

1 12                      2 9つ                      3 6つ                      4 3つ

(27) 次の作品と関わりの深い場所の組み合わせのうち、正しいものはいくつあるか。

- ア 泉鏡花『みだれ橋(星あかり)』…別願寺
- イ 夏目漱石『門』・島崎藤村『春』…円覚寺帰源院
- ウ 葛西善蔵『暗い部屋にて』『おせい』…建長寺宝珠院
- エ 有島武郎『或る女のグリンプス(或る女)』…円覚寺松嶺院
- オ 黒田清輝『鎌倉にて』『雲』…向福寺
- カ 川端康成『千羽鶴』…円覚寺佛日庵
- キ 三島由紀夫『春の雪』…鎌倉文学館

1 5つ                      2 4つ                      3 3つ                      4 2つ

(28) 次の神社と祭神の組み合わせのうち、正しいものはいくつあるか。

- ア 鎌倉宮…大塔宮護良親王
- イ 葛原岡神社…日野俊基
- ウ 荏柄天神社…菅原道真
- エ 御霊神社(梶原)…梶原景時
- オ 白山神社…菊理姫之命
- カ 龍口明神社…五頭龍大神, 玉依姫命
- キ 白旗神社…源頼朝
- ク 甘縄神明神社…染屋時忠
- ケ 蛭子神社…大己貴命
- コ 銭洗弁財天宇賀福神社本宮…市杵島姫命

1 10                      2 8つ                      3 6つ                      4 4つ

(29) 次の鎌倉における近代のできごとのうち、明治時代のものはいくつあるか。

- ア 横須賀線の大船－横須賀間が開通し、鎌倉駅ができた。
- イ 川端康成が初めて鎌倉市名誉市民に選ばれた。
- ウ 町制が施行され、鎌倉町が誕生した。
- エ 御谷騒動がおこり、鎌倉風致保存会が創設された。
- オ 長与専斎が鎌倉の浜辺は理想的な海水浴場と紹介した。
- カ 鎌倉駅前でハイヤーの営業が始まった。
- キ 大船－片瀬間に自動車専用道路が開通した。
- ク 鎌倉町と腰越町が合併し、鎌倉市が誕生した。
- ケ 江ノ電が藤沢－鎌倉間の全線が開通した。
- コ 松竹撮影所が蒲田から大船に移転した。

1 8つ                      2 6つ                      3 4つ                      4 2つ

③① 鎌倉のハイキングコースに関する記述で正しいものはいくつあるか。

ア 天園ハイキングコースは建長寺裏山頂の展望台を起点に閻魔大王などが彫られた十王岩、大平山頂、六国峠、貝吹地蔵、奥津城やぐらを経て、瑞泉寺に至る。

イ 大仏ハイキングコースは、葛原岡神社から銭洗弁財天宇賀福神社に至る下り坂を右に見て、左手の丘を進み、鎌倉大仏の背後を通過して、トンネルの上に出る。

ウ 葛原ヶ岡ハイキングコースは、浄智寺の裏山を登り、天柱峰の石碑を越えて葛原岡神社に至るコースで、神社の北側の山すそには瓜ヶ谷やぐら群がある。

エ 祇園山ハイキングコースは、東勝寺跡・腹切りやぐらを起点として祇園山展望台を経て大町の鎮守八雲神社の境内に至る。

1 4つ                      2 3つ                      3 2つ                      4 1つ

③② 報国寺に関する記述で正しいものはいくつあるか。

ア 臨済宗円覚寺派に属し、山号は功臣山である。

イ 1334年(建武元)、足利尊氏の祖父の足利家時を開基として開かれた。

ウ 境内にある孟宗竹林の庭でよく知られ、「竹庭の寺」と呼ばれている。

エ 本堂には本尊阿弥陀如来像と、宅間浄宏作と伝えられる神奈川県的重要文化財である地藏菩薩像がある。

オ 開山の天岸慧広(仏乗禅師)が作った漢詩約二百篇を集めた『東帰集』は日本人によるまとまった偈頌集として最初のもので、国の重要文化財に指定されている。

カ 境内には、アララギ派同人の歌人、斎藤茂吉の歌碑がある。

1 5つ                      2 4つ                      3 3つ                      4 2つ

③③ 正宗工芸に関する記述で正しいものはいくつあるか。

ア 鎌倉時代末期の刀工、五郎入道正宗は、新藤五国光に師事し、諸国を行脚して修業し、鎌倉に「相州伝」を完成させ、その門下には貞宗など多くの名工がいる。

イ 釈迦堂ヶ谷の入口近くに、正宗の屋敷があったと伝えられ、その近くには、正宗の井戸や正宗稲荷と呼ばれる刃稲荷がある。

ウ 江戸時代以降、正宗家(現在の山村家)が、名工正宗の相州鍛冶として刀剣作りをしてきた。

エ 明治期には軍刀などを作っていたが、第二次世界大戦後は、この技術を生かし刃物や鉄工芸品を作っている。正宗から24代目が伝統を継承し、正宗工芸として現在に至っている。

1 4つ                      2 3つ                      3 2つ                      4 1つ

(33) 次の文中の下線部 1～4 のうち、誤りを含む部分を選びなさい。

日蓮ゆかりの史跡は鎌倉の各地にある。1 七里ヶ浜には、日蓮の雨乞い伝説で知られる田辺が池跡、2 稲村ヶ崎の近くには日蓮袈裟掛松、3 大町～名越の辻説法の石碑・日蓮乞水、4 朝夷奈切通を越えると、岩殿寺に向かう巡礼道に沿ってお猿島の大切岸などがある。

(34) 次の文中の下線部 1～4 のうち、誤りを含む部分を選びなさい。

北条氏は、1 北条時政の時、梶原氏、比企氏、畠山氏を、2 北条義時のとき、和田氏を滅ぼし、3 北条泰時のとき宝治合戦で、三浦氏を討つなど、ライバルとなる有力御家人たちを次々と滅ぼし、4 北条貞時のとき霜月騒動で、安達氏を討ち、北条氏嫡流による得宗専制のしくみを確立していった。

(35) 次の寺院のうち、天井に描かれた「雲龍」が夜毎出歩くという伝説があるのはどれか。

1



2



3



4



(36) 源頼朝や北条時頼にまつわる伝説が残る神社はどれか。

1



2



3

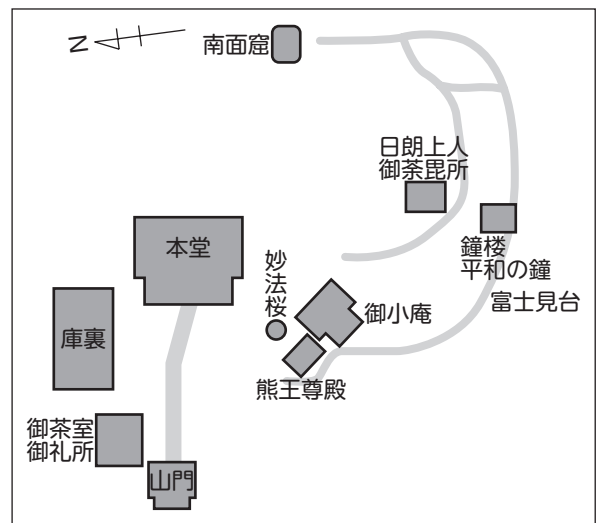


4



(37) 右の境内図はどの寺院のものか。

- 1 常栄寺
- 2 光則寺
- 3 安国論寺
- 4 妙法寺(大町)





(38) 右の写真の山門の [ ] の部分に掲げられている扁額はどれか。




1



2



3



4

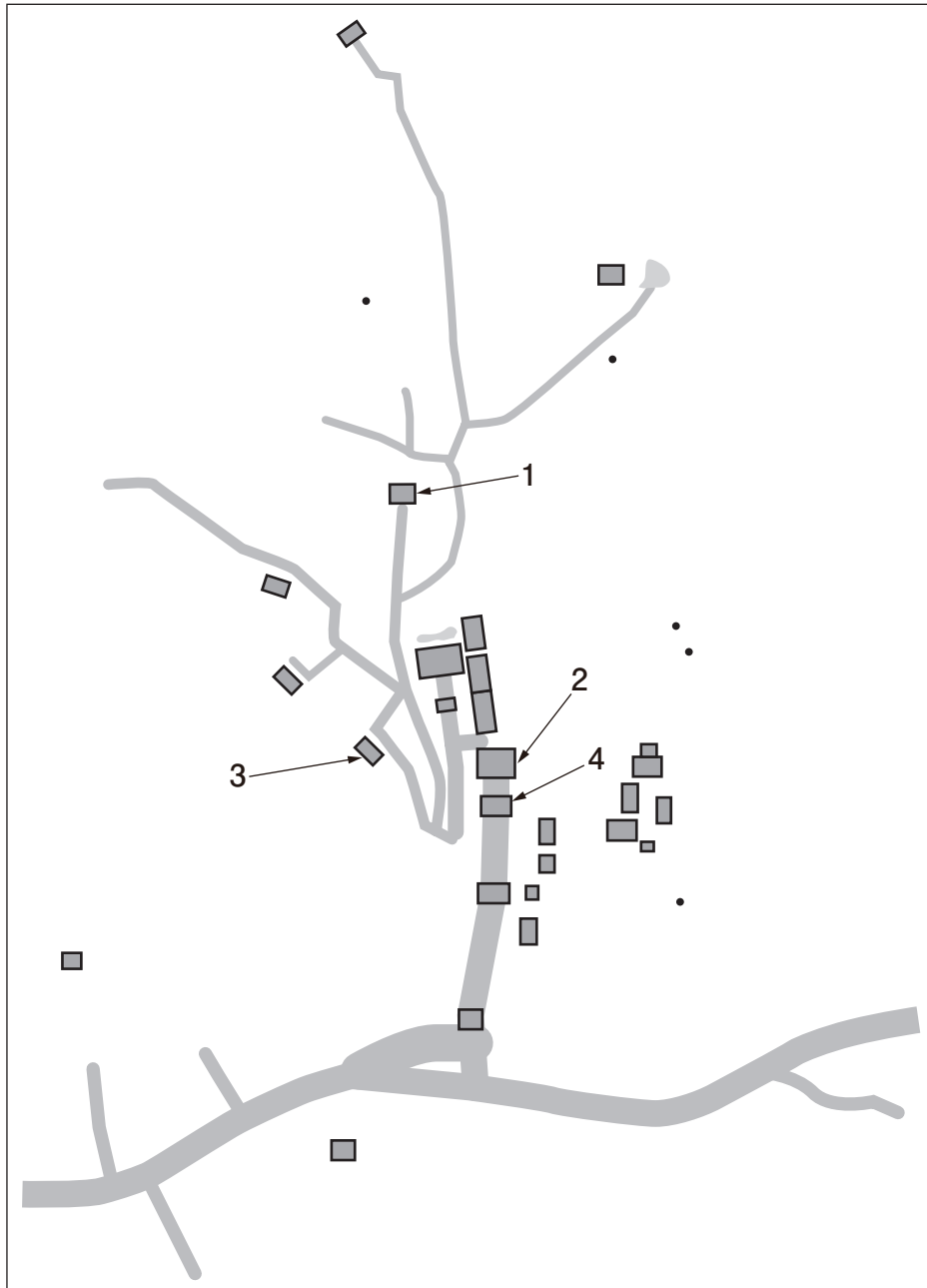


2 次の(39), (40)は建長寺の建築物の写真である。これらの建築物が建っている場所を、あとの境内図中の1～4からそれぞれ選びなさい。

(39)



(40)



### 記述問題解答における注意

- ◇ 誤字脱字は不正解とする。
- ◇ 解答は公式テキストに掲載されている文字(形)で書くこと。
- ◇ 「漢字で」など解答方法を指示しているものについては、指示に沿っていない場合は不正解とする。
- ◇ 特に解答方法が指示されていない場合は、漢字、ひらがな、カタカナ、アルファベットいずれで書いてもよい。
- ◇ 記述問題⑤(51)以降については、〔 ① 〕,〔 ② 〕両方できて正解とする。

3 次の写真は何か。指示にしたがって書きなさい。(各2点×5)

(41) 寺名と建物名を漢字で書きなさい。




(42) 旧跡名を漢字で書きなさい。



(43) 建物名を漢字で書きなさい。



(44) 寺名と仏像名を漢字で書きなさい。



(45) 寺名と仏像名を漢字で書きなさい。



4 次の用語の読みをひらがなで書きなさい。(各2点×5)

(46) 十二所

(47) 大巧寺

(48) 神戸川

(49) 大注連祭

(50) 当麻曼荼羅縁起絵巻

5 次の文の〔 ① 〕,〔 ② 〕に最も適当な語句を書きなさい。ただし,〔 ① 〕,〔 ② 〕  
両方できて正解とする。(各2点×20)

51) 〔 ① 〕,〔 ② 〕ともに漢字で書きなさい。

源義経は兄頼朝に鎌倉入りを拒絶されると,その手前まで来て〔 ① 〕寺に留まり,頼朝の怒りを解こうとしたが許されず,大江広元に力添えを頼む書状を出した。この書状が〔 ② 〕である。

52) 〔 ① 〕,〔 ② 〕ともに漢字で書きなさい。

稲村ヶ崎は,現在,海岸公園として整備され,新田義貞の石碑の他,1908年(明治41)に弟子の〔 ① 〕と鎌倉を訪れた近代細菌学の祖といわれるドイツ人医学者ロベルト・コッホの記念碑や,1910年(明治43),七里ヶ浜沖でおきた〔 ② 〕中学生のボート転覆海難事故の慰霊碑がある。

53) 〔 ① 〕,〔 ② 〕ともに漢字で書きなさい。

明月院やぐらは「〔 ① 〕」ともいわれ,関東管領で明月院開基の〔 ② 〕の墓所と伝えられ,中央に宝篋印塔が祀られている。

54) 〔 ① 〕,〔 ② 〕ともに漢字で書きなさい。

逗子市との境,材木座海岸と小坪の間にまたがる山に〔 ① 〕城址はある。北条早雲が古要害をとり立てて城郭として新たに造り,その後,〔 ② 〕が攻め落とした。しかし,1512年(永正9),〔 ② 〕は〔 ① 〕合戦でこの城を早雲に落とされ,三崎の新井城に退いた。

55) 〔 ① 〕は橋の名称,〔 ② 〕は人名を書きなさい。

鎌倉十橋のうち,〔 ① 〕は渋川刑部六郎兼守が,勝ノ橋は〔 ② 〕が架けたと伝えられている。

56) 〔 ① 〕,〔 ② 〕ともに漢字で書きなさい。

朝夷奈切通は3代執権〔 ① 〕が指揮を執り,率先して工事に当たったことが『吾妻鏡』に記されているが,鎌倉幕府の侍所初代別当の〔 ② 〕の三男で豪傑だった,朝比奈三郎義秀が一夜にして切り開いたという伝承が存在する。

- 57) [ ① ]は**カタカナ**, [ ② ]は**漢字**で書きなさい。

「ツツジ寺」の別名がある安養院では、花期になると境内一面に約 50 株の[ ① ]が咲き誇る。笛田公園に近い[ ② ]寺でも本堂背後の斜面一面に色とりどりのツツジが咲く。

- 58) [ ① ], [ ② ]ともに**漢字**で書きなさい。

円覚寺の塔頭の一つである[ ① ]は、現在では、禪の道場である「居士林」となり、在家の人々の参禅も多く、定期的に坐禅会が開催されている。また、佛日庵は開基北条時宗の廟所として創建され、子の 9 代執権北条貞時、孫の 14 代執権[ ② ]も合葬されている。

- 59) [ ① ], [ ② ]ともに**漢字**で書きなさい。

明治浪漫主義に新時代を開いた歌人[ ① ]が詠んだ短歌「かまくらやみほとけなれど釈迦牟尼は美男におはす夏木立かな」に詠われた阿弥陀如来坐像が境内に祀られている寺の名称は[ ② ]である。

- 60) [ ① ], [ ② ]ともに**漢字**で書きなさい。

2 代執権北条義時の子[ ① ]が再建、その子長時、業時の兄弟が、当時多宝寺に入山していた[ ② ]を招いて開山とした極楽寺は、最盛期には七堂伽藍のほか 49 の支院があったという。

- 61) [ ① ]は**ひらがな**, [ ② ]は**漢字**で書きなさい。

病に特効のある神様は鎌倉の社寺にも数多く、例えば、光照寺(山ノ内)には、お年寄りや子どもの咳が止まるという御利益のある、咳の神様[ ① ]の石の祠があり、上行寺(大町)には「癌」に特効のある[ ② ]を祀る稲荷堂がある。

- 62) [ ① ], [ ② ]ともに**漢字**で書きなさい。

光則寺の開山は、日蓮の弟子[ ① ]で、裏山には[ ① ]が幽閉された土牢が残り、傍らには佐渡流罪前夜、日蓮が[ ① ]に送った手紙[ ② ]の石碑もある。

- 63) [ ① ]は**7 字**, [ ② ]は**漢字**で書きなさい。

戦後まもなく新時代の教育を目指す自由大学[ ① ]が開校された光明寺の本堂左手の[ ② ]庭園は、二条城などの造園で知られる小堀遠州の流れをくむ庭園である。

64) [ ① ], [ ② ]ともに漢字で書きなさい。

ともに国宝である建長寺と円覚寺の梵鐘は、銘文より、建長寺のものが[ ① ], 円覚寺のものが[ ② ]が大壇那となつてつくられたことがわかる。

65) [ ① ], [ ② ]ともに漢字で書きなさい。

鎌倉の絵画界が特色を帯びるのは、禅宗の移入など日宋交流が引き金となって宋元風の仏画や禅僧の肖像画である[ ① ]や水墨画などが当地に展開してからであり、特に、[ ① ]では建長寺の開山であった、「[ ② ]像」(国宝)がその代表である。

66) [ ① ], [ ② ]ともに漢字で書きなさい。

高く結い上げた宝髻、複雑な衣文線、やや人間くさい面相などを特徴とする、鎌倉地方様式の仏像の代表作としては、圓應寺の[ ① ]坐像(国重文)や[ ② ]寺の阿弥陀三尊坐像(国重文)などがあげられる。

67) [ ① ]は漢字で、[ ② ]は地名を書きなさい。

哲学者[ ① ]は1928年(昭和3)から没するまで稲村ガ崎に居住した。[ ② ]には、海の風景を詠った短歌が刻まれた記念碑が立つ。

68) [ ① ], [ ② ]ともに漢字で書きなさい。

鶴岡八幡宮の現在の若宮は1624年(寛永元)に[ ① ]によって、本宮は1828年(文政11)に[ ② ]によって再建造営されたものである。

69) [ ① ], [ ② ]ともに漢字で書きなさい。

江戸時代、鎌倉で獲れた初鰹は江戸で最も人気を集めており、[ ① ]の「目には青葉山ほとゝぎすはつ松魚」や[ ② ]の「鎌倉を生きて出でけむ初鰹」などの句でも知られている。

70) [ ① ], [ ② ]ともに漢字で書きなさい。

毎年6月上旬に鶴岡八幡宮で行われる蛍放生祭では、夕刻より[ ① ]で神事が行われ、蛍が神前に供えられる。その後、[ ② ]の畔で、宮司以下神職の手によって蛍が放たれ、境内に飛び立つ。

(以上、問題はこれで終わりです。)