

第 17 回 鎌倉観光文化検定試験

< 1 級 >

試験問題

注 意 事 項

- 1 試験官の「始め」の合図があるまで、試験問題の内容は絶対に見てはいけません。
- 2 この試験の解答時間は、「始め」の合図があってから正味 90 分間です。
- 3 試験開始後 30 分及び試験終了 10 分前からは退場できません。
- 4 「やめ」の合図があったら直ちにやめてください。
- 5 試験問題用紙は提出する必要はありません。
- 6 マークシートへの記入には、必ず HB の黒鉛筆又はシャープペンシルを用いてください。なお、指定された箇所以外に記入された場合には採点いたしません。
- 7 記述問題(③以降)の解答については、誤字脱字は不正解とします。解答は公式テキストに掲載されている文字(形)で書いてください。
- 8 「漢字で」など解答方法を指示しているものについては、指示に沿っていない場合は不正解とします。
- 9 特に解答方法が指示されていない場合は、漢字、ひらがな、カタカナ、アルファベットいずれで書いてもよいです。
- 10 記述問題⑤について、「3つ」や「すべて」など複数解答を指示しているものについては、同じ解答番号の解答欄に複数書いてください。
- 11 記述問題⑥以降については、〔 ① 〕、〔 ② 〕両方できて正解とします。
- 12 解答用紙はいかなる場合でも必ず提出してください。(持ち帰ることはできません。)
- 13 試験問題の内容についての質問に答えることはできません。
- 14 この試験問題のページ数は、表紙を除いて 13 ページです。

1 次の各問いについて、最も適当なものを1～4から選びなさい。(各1点)

(1) 右の写真の建造物を寄進した人物はだれか。

- 1 徳川秀忠
- 2 徳川家綱
- 3 徳川吉宗
- 4 徳川家斉



(2) 右の写真の建造物を建てた人物はだれか。

- 1 福島浪蔵
- 2 諸戸静六
- 3 村田一郎
- 4 前田利為



(3) 右の寺院に大正時代に滞在した作家はだれか。

- 1 夏目漱石
- 2 島崎藤村
- 3 葛西善蔵
- 4 有島武郎



(4) 右の神社で行われる行事はどれか。

- 1 実朝祭
- 2 初午祭
- 3 草鹿
- 4 針供養



(5) 次の鶴岡八幡宮に現存する建物のうち、最も古いものはどれか。

- 1 本宮 2 若宮 3 丸山稲荷社 4 旗上弁財天社

- (6) 801年(延暦20)に葛原ヶ岡に荒神を祀ったのが始まりとされる神社はどこか。
- 1 五所神社 2 巽神社 3 蛭子神社 4 熊野新宮
- (7) 次の天井絵のうち、東大寺の本坊襖絵など異色の作風で知られる十二所に住んでいた画家小泉淳作が描いたものはどれか。
- 1 常楽寺仏殿の雲龍の図 2 円覚寺仏殿の白龍の図
3 建長寺法堂の雲龍の図 4 長壽寺観音堂の天女の図
- (8) 光明寺所蔵の国宝「紙本著色 当麻曼荼羅縁起」二巻を寄進した人物はどれか。
- 1 柳沢吉保 2 内藤義概 3 徳川光圀 4 徳川頼房
- (9) 次の寺院とその地にある桜の名木の組み合わせで誤っているものはどれか。
- 1 妙法寺(大町) - 「妙法桜」 2 瑞泉寺 - 「冬桜」
3 浄智寺 - 「タチヒガン」 4 極楽寺 - 「御車返し」
- (10) 次の映画と舞台となった場所の組み合わせで誤っているものはどれか。
- 1 「ツイゴイネルワイゼン」 - 大町釈迦堂口遺跡
2 「晩春」 - 北鎌倉駅
3 「それから」 - 鎌倉文学館
4 「海街 diary」 - 極楽寺
- (11) 次のA～Dの戦いを起こった時期が古い順に並べたときに正しいものはどれか。
- A 和田合戦 B 比企氏の乱 C 宝治合戦 D 承久の乱
- 1 A→B→C→D 2 A→B→D→C 3 B→A→C→D 4 B→A→D→C
- (12) 次の文中の下線部のうち、誤りを含むものはいくつあるか。
- 阿仏尼邸跡は、江ノ電^ア長谷駅を海の方へ向かった右手奥にある。阿仏尼は藤原定家の子である為家の側室であり、為家の死後、実子為相とその兄との間に所領相続問題が生じ、^イ北条時頼に正当性を訴えるため、1277年(建治3)、京から鎌倉に下った。『^ウ十六夜日記』はその旅の日記であり、4年間、^エ星月ヶ谷に住んだといわれる。
- 1 4つ 2 3つ 3 2つ 4 1つ
- (13) 次のうち、鎌倉十三仏詣に含まれるものはいくつあるか。

明王院の不動明王、極楽寺の釈迦如来、覚園寺の阿闍如来、来迎寺(西御門)の阿弥陀如来、本覚寺の文殊菩薩、浄智寺の弥勒菩薩、延命寺の地藏菩薩、補陀洛寺の日光菩薩、海蔵寺の薬師如来、浄泉寺の大日如来、成就院の虚空蔵菩薩

- 1 9つ 2 8つ 3 7つ 4 6つ

(14) 次の人物のうち、鎌倉市の名誉市民は何人いるか。

里見弴、久米正雄、大佛次郎、小林秀雄、川端康成、高見順、永井龍男、横山隆一、吉田秀和、小津安二郎、吉屋信子、小倉遊亀、永井路子、平山郁夫、井上ひさし

1 6人 2 5人 3 4人 4 3人

(15) 次の寺と開基の組み合わせとして正しいものはいくつあるか。

| | |
|-------------|------------|
| ア 英勝寺－徳川頼房 | イ 明王院－北条泰時 |
| ウ 妙本寺－比企能員 | エ 壽福寺－源実朝 |
| オ 極楽寺－北条重時 | カ 九品寺－新田義貞 |
| キ 浄光明寺－北条長時 | ク 光明寺－北条時頼 |
| ケ 報国寺－足利家時 | コ 海蔵寺－上杉氏定 |
| サ 長壽寺－足利直義 | シ 妙隆寺－千葉胤貞 |

1 7つ 2 6つ 3 5つ 4 4つ

(16) 次の句碑・歌碑と寺院の組み合わせとして正しいものはいくつあるか。

| | |
|---------------|-----------------|
| ア 夏目漱石－円覚寺帰源院 | イ 高浜虚子－壽福寺 |
| ウ 久保田万太郎－長谷寺 | エ 吉野秀雄・山崎方代－瑞泉寺 |
| オ 木下利玄－東慶寺 | カ 与謝野晶子－高德院 |

1 4つ 2 3つ 3 2つ 4 1つ

(17) 次の伝説と関わりの深い寺院の組み合わせのうち、正しいものはいくつあるか。

| | |
|--------------------------------|----------------------|
| ア 日蓮が白猿に導かれた伝説の洞窟「南面窟」…妙法寺(大町) | |
| イ 境内創建地を導いた白鷺…円覚寺 | |
| ウ 夜毎に出歩く龍…浄智寺 | エ 頼焼阿弥陀…浄妙寺 |
| オ どこも苦地蔵…浄光明寺 | カ 三門(山門)再建を勧進した狸…建長寺 |

1 5つ 2 4つ 3 3つ 4 2つ

(18) 次の北条義時に関する記述で正しいものはいくつあるか。

ア 父北条時政を引退させた後、執権として姉北条政子とともに2代将軍源頼家を補佐した。

イ 後鳥羽上皇による承久の乱では、朝廷方の軍を破って、鎌倉幕府の基盤を強固にし、朝廷の動きを監視するために六波羅探題を設けた。

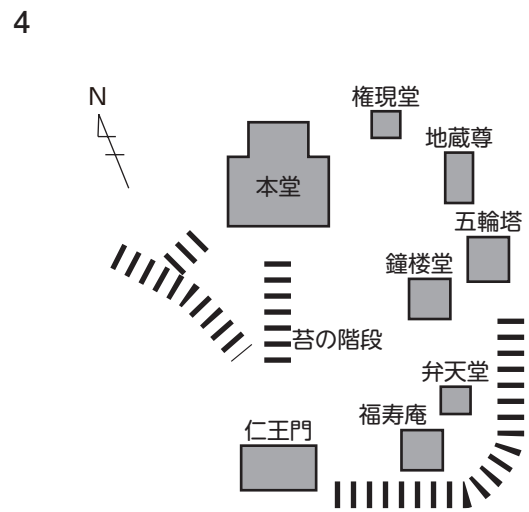
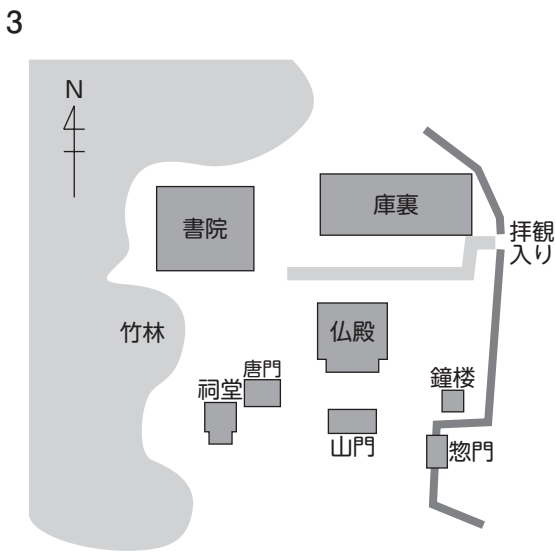
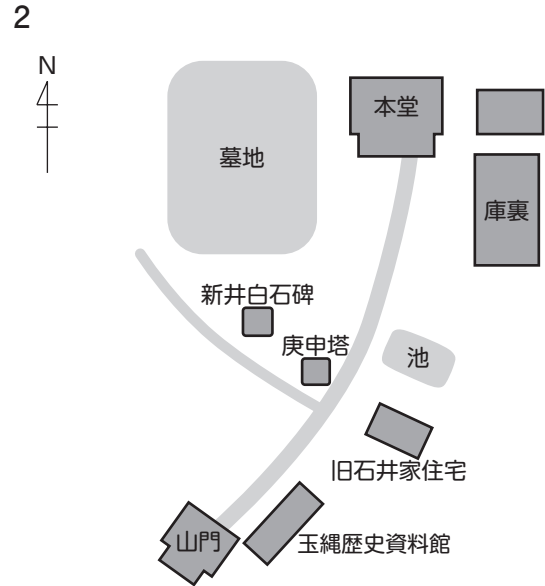
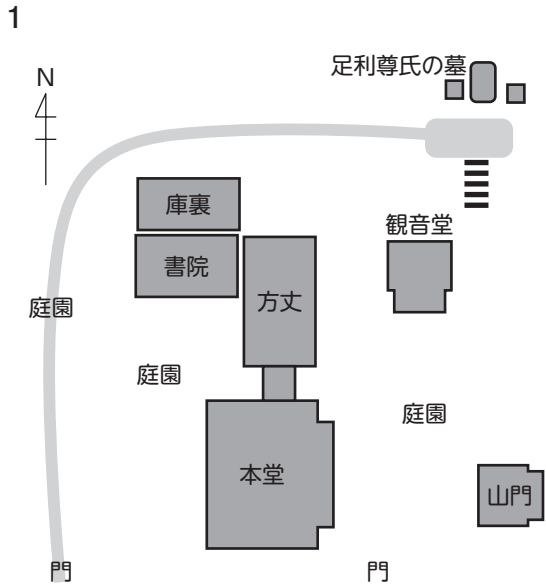
ウ 宝治合戦によって、有力御家人の三浦泰村とその一族を滅ぼした。

エ 大倉薬師堂の戌神将の化身によるお告げによって、鶴岡八幡宮寺での源実朝暗殺のとき、自らの難を免れた。

オ 妻の母のために常楽寺の前身である粟船御堂を建て供養した。

1 5つ 2 4つ 3 3つ 4 2つ

(2) 右の写真の扁額が山門に掲げられている寺院の境内図はどれか。



2 次の各問いに答えなさい。

次の地図は天園ハイキングコースをあらわしている。地図中の(22)～(24)にあてはまるものをそれぞれ1～4から選びなさい。(各1点)



(22)

1



2



3



4



(23)

1



2



3



4



(24)


1



2



3




4

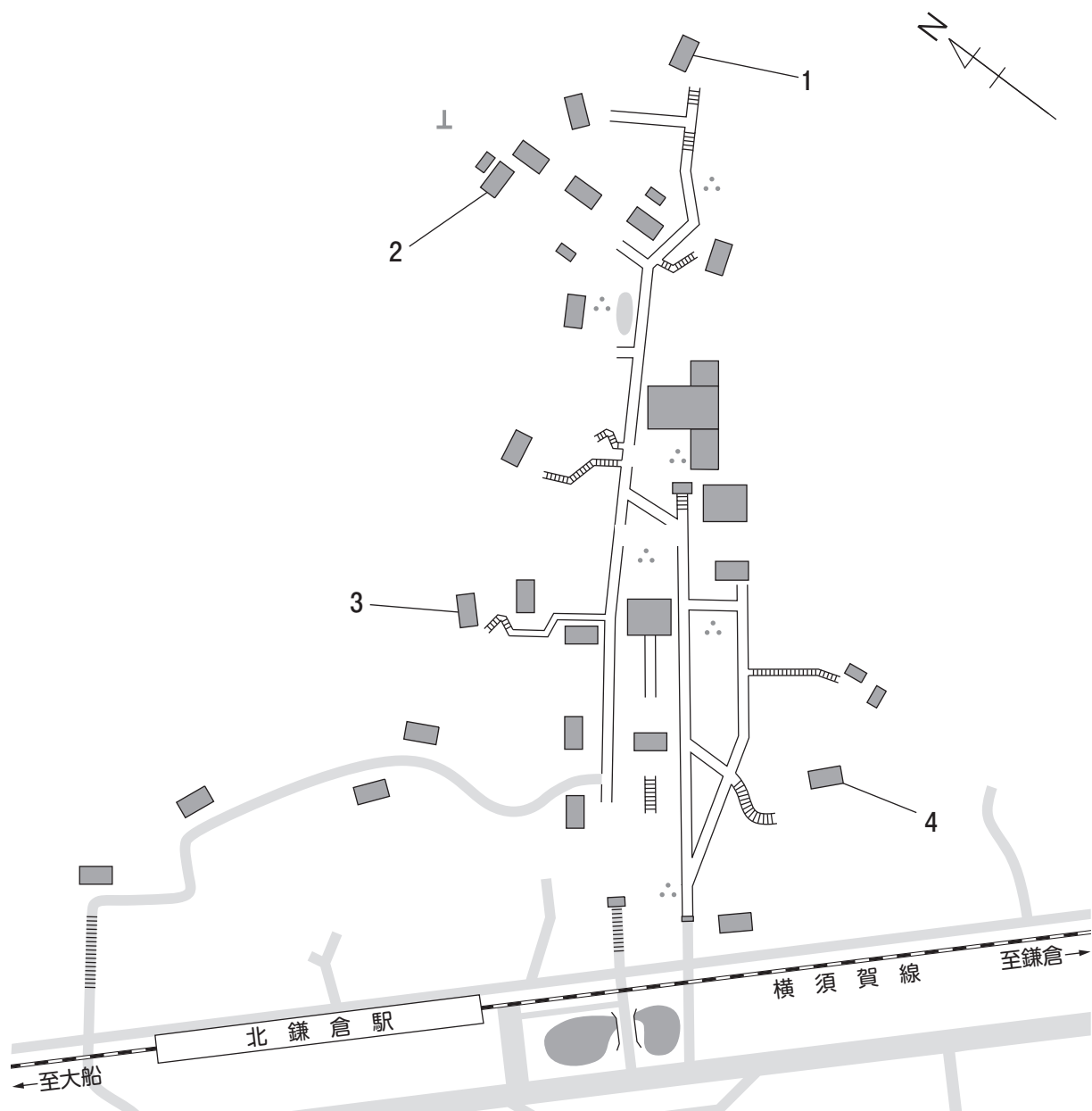


次の(25), (26)は円覚寺の建築物の写真である。これらの建築物が建っている場所を、あとの境内図中の1～4からそれぞれ選びなさい。(各1点)

(25)



(26)



記述問題解答における注意

- ◇ 誤字脱字は不正解とする。
- ◇ 解答は公式テキストに掲載されている文字(形)で書くこと。
- ◇ 「漢字で」など解答方法を指示しているものについては、指示に沿っていない場合は不正解とする。
- ◇ 特に解答方法が指示されていない場合は、漢字、ひらがな、カタカナ、アルファベットいずれで書いてもよい。
- ◇ 記述問題⑤について、「3つ」や「すべて」など複数解答を指示しているものについては、同じ解答番号の解答欄に複数書くこと。
- ◇ 記述問題⑥(41)以降については、[①], [②]両方できて正解とする。

3 次の写真は何か。指示にしたがって書きなさい。(各2点)

(27) 寺名と仏像名を漢字で書きなさい。



(28) 寺名と建物名を漢字で書きなさい。



(29) 寺名と建物名を漢字で書きなさい。



(30) 寺名と行事名を漢字で書きなさい。



(31) 寺名と仏像名を漢字で書きなさい。



4 次の用語の読みをひらがなで書きなさい。(各2点)

(32) 鷲峰山覚園寺

(33) 葛原岡神社

(34) 衣張山

(35) 瓶ノ井

(36) 葡萄蒔絵螺鈿聖餅箱

5 次の各問いについて、指示にしたがって書きなさい。(37)・(38)各4点、(39)・(40)各3点

(37) 鎌倉五名水のうち、 にあてはまるものを3つ書きなさい。

金龍水, 不老水,

(38) 鎌倉十橋のうち、 にあてはまるものを5つ書きなさい。

夷堂橋, 歌ノ橋, 十王堂橋, 琵琶橋, 勝ノ橋,

(39) 鎌倉五山のうち、 ① ~ ③ にあてはまる寺院を書きなさい。

建長寺→円覚寺→ ① → ② → ③

(40) 関東十刹のうち、鎌倉市内に現存する寺院をすべて書きなさい。

6 次の文の〔 ① 〕,〔 ② 〕に最も適当な語句を書きなさい。ただし,〔 ① 〕,〔 ② 〕

両方できて正解とする。(各2点)

(41) 〔 ① 〕,〔 ② 〕ともに漢字で書きなさい。

1219年(建保7)正月,右大臣となった将軍源実朝は,鶴岡八幡宮寺で甥の〔 ① 〕に殺される。幼少から京都文化の摂取につとめた実朝は,後鳥羽上皇や藤原定家の支援を受けつつ,多くの和歌を詠み,『〔 ② 〕和歌集』を残している。

(42) 〔 ① 〕,〔 ② 〕ともに漢字で書きなさい。

源頼朝に所望されて,鶴岡八幡宮寺の〔 ① 〕の回廊で,源義経の愛妾静御前が義経を恋慕う歌に託して舞った時,工藤祐経が鼓を打ち,〔 ② 〕が銅拍子を担当したという。

(43) 〔 ① 〕,〔 ② 〕ともに漢字で書きなさい。

1674年(延宝2),水戸藩主〔 ① 〕は鎌倉を訪れ,名所・旧跡を巡見し,『鎌倉日記』を著した。これを前提として,〔 ① 〕の命により家臣達が編纂にあたり,1685年(貞享2)に刊行されたのが,著名な鎌倉の地誌・案内書『〔 ② 〕』である。

(44) [①], [②]ともに漢字で書きなさい。

由比ヶ浜は、鎌倉時代には「[①]」と呼ばれ、多くの家も浜に建ち、また小笠懸や流鏑馬、犬追物など武芸の修練場とされていた。一方で、1193年(建久4)には、[②]が放生会を開催させたといわれ、神聖な宗教儀式の場ともなっていた。

(45) [①], [②]ともに漢字で書きなさい。

3代執権北条泰時は幕府をそれまでの大倉から[①]に移し、さらに1236年(嘉禎2)には[②]に移した。

(46) [①], [②]ともに漢字で書きなさい。

鎌倉においてツバキの名花として知られているのは、覚園寺の「[①]」と、英勝寺の「[②]」である。

(47) [①]はカタカナで、[②]は漢字で書きなさい。

1969年(昭和44)、神奈川県立フラワーセンター大船植物園(現神奈川県立大船フラワーセンター)内にある[①]の中から発見された早咲きで花期(花を付ける期間)が長い株は、選抜が重ねられ、株数を増やし、固有種としての育成に成功し、1990年(平成2)には、「[②]」という名称で正式に新種として登録されている。

(48) [①], [②]ともに漢字で書きなさい。

妙本寺境内には比企能員の娘で鎌倉幕府2代将軍源頼家に嫁した若狭局を祀る[①], 比企一族の供養塔、頼家と若狭局の間に生まれ、わずか6歳で落命した幼児一幡を祀る[②]などがある。

(49) [①], [②]ともに漢字で書きなさい。

長谷寺本尊の十一面観音菩薩像の、左手に[①]を持って観音のご利益を、右手には[②]を持って地蔵のご利益を同時にあたえてくれる珍しい姿は、長谷寺様式と呼ばれ、奈良長谷寺の本尊と共通している。

(50) [①], [②]ともに漢字で書きなさい。

大町の鎮守八雲神社は、永保年間(1081～1084年)、[①]が兄の源義家の奥州攻めの助勢に向かう途中、鎌倉に立ち寄ると、悪疫流行で里民が難儀しているのを知り、これを救うため京都[②]の祭神を勧請したのが始まりという。

- (51) [①]は漢字で, [②]は数字で書きなさい。

津の鎮守[①]は江島神社とは夫婦神社とされ, [②]年に一度行われる江島神社の還暦巳歳大祭には, 故事にちなんで, 祭神の五頭龍大神の御神体が江島神社に神奉され, 弁財天像とともに特別開帳され間近で拝する事ができる。

- (52) [①], [②]ともに漢字で書きなさい。

作家川端康成が愛蔵した「十便図・十宜図」は, 中国の文人李漁が詠んだ漢詩「伊園十便十二宜詩」を主題として江戸時代の文人画家[①]と, 俳人としても知られる文人画家[②]の合作により, 描かれたものである。

- (53) [①], [②]ともに漢字で書きなさい。

東慶寺[①]観音菩薩半跏像は, その美しさから[②]観音とも呼ばれる。

- (54) [①], [②]ともに漢字で書きなさい。

2019年(令和元)6月8日に開館した[①] 鶴岡ミュージアムは, 戦後日本のモダニズム建築を多数手がけた建築家[②]が設計した旧神奈川県立近代美術館鎌倉本館に耐震・改修工事を施したものである。

- (55) [①], [②]ともに漢字で書きなさい。

鎌倉[①]唄は, 鎌倉鳶職組合によって伝承されている。毎年1月4日, 鶴岡八幡宮境内で行われる[②]で御神木が二の鳥居から舞殿まで運ばれるときに歌われている。

- (56) [①], [②]ともに漢字で書きなさい。

大正時代, 鎌倉の銘菓である鳩サブレが徐々に人気を博していったのは小児医学博士が幼児の離乳食に最適と推薦し, 現在の[①]小学校の地にあった鎌倉御用邸からも用命を受けたためである。また, 発売当初, 丸い形をしていたサブレが鳩の形になったのは, 豊島屋の初代[②]が鶴岡八幡宮本殿の掲額の「八」の字や, 境内の宮鳩からヒントを得たことによるといわれている。

57) [①], [②]ともに漢字で書きなさい。

毎年5月5日(端午の節句)に[①]で行われる草鹿は、鎌倉時代の武士の射術鍛錬とされ、古式に則り、2組に分かれて鹿の形をした的に向かって矢を放ち、合計点数を競う。勝ち組の大將には神職から[②]が授与される。

58) [①], [②]ともに漢字で書きなさい。

鎌倉では、[①]を祀る葛原岡神社の例祭を夏祭りの先駆けと呼んでいる。一方、8月16日に圓應寺で行われる[②]で夏祭りが終わるといわれている。

59) [①], [②]ともに漢字で書きなさい。

坂ノ下の御霊神社例祭は、祭神[①]の命日である9月18日に行われる。境内で鎌倉神楽とも呼ばれる[②]を奉納した後、奈良時代から伝わる伎楽面や田楽面をつけた面掛行列が行われる。

60) [①], [②]ともに漢字で書きなさい。

12月16日、鶴岡八幡宮で行われる御鎮座記念祭においては、本殿での祭典後、境内の明かりがすべて消され浄闇の中、舞殿北庭に篝火が焚かれる。この明かりだけの中で、四人の巫女が「[①]曲」に合わせて舞い、神職による「[②]舞」が奉納される。

(以上、問題はこれで終わりです。)